

**БЮДЖЕТНОЕ УЧРЕЖДЕНИЕ ВЫСШЕГО ОБРАЗОВАНИЯ
ХАНТЫ-МАНСКИЙСКОГО АВТОНОМНОГО ОКРУГА – ЮГРЫ
«Сургутский государственный университет»**

Утверждаю:
Первый проректор
Даниленко И.Н.

«29» 04 2021 г.



**ЭКЗАМЕНАЦИОННЫЙ ТЕСТ
ПО ПРЕДМЕТУ «ГЕОГРАФИЯ»**

ДЕМОНСТРАЦИОННЫЙ ВАРИАНТ

ЧАСТЬ 1.

Задание: Выберите один правильный ответ из предложенных.

- 1) К крупномасштабным картам относятся карты масштаба
 - а) 1: 100000
 - б) 1: 300000
 - в) 1: 500000
 - г) 1: 1000000

2. На территориях с каким типом климата средняя температура января выше?
 - а) умеренный морской
 - б) умеренный континентальный
 - в) умеренный резко континентальный
 - г) умеренный муссонный

3. Какие из перечисленных ресурсов относятся к числу неисчерпаемых?
 - а) железные руды
 - б) лесные
 - в) энергия ветра
 - г) природный газ

4. Какая природная зона занимает большую площадь на полуострове Индостан?
 - а) влажные экваториальные леса
 - б) саванны и редколесья
 - в) полупустыни и пустыни
 - г) лесостепи и степи

5. Из перечисленных равнин Северной Америки наибольшие абсолютные высоты над уровнем моря имеет (-ют)
 - а) Примексиканская низменность
 - б) Миссисипская низменность
 - в) Великие равнины
 - г) Центральные равнины

6. В каком из перечисленных городов Евразии зима наиболее теплая?
 - а) Париж

- б) Киев
- в) Улан-Батор
- г) Калькутта

7. Какое утверждение о Земле как планете Солнечной системы верно?

- а) 22 декабря на экваторе продолжительность дня и ночи одинакова.
- б) Угол наклона земной оси к плоскости орбиты составляет $23,5^\circ$.
- в) Земля обращается вокруг своей оси с востока на запад, если смотреть со стороны Северного полюса.
- г) Общая площадь поверхности земного шара составляет 820 млн кв. км.

8. В какой из перечисленных стран доля пожилых людей в общей численности населения наибольшая?

- а) Пакистан
- б) Венесуэла
- в) Эфиопия
- г) Великобритания

9. Для какой из перечисленных стран характерна миграционная убыль населения?

- а) Дания
- б) Мексика
- в) Франция
- г) Швеция

10. Наибольший уровень урбанизации характерен для стран

- а) Северной Африки
- б) Латинской Америки
- в) Южной Азии
- г) Тропической Африки

11. Какой из перечисленных островов наиболее густо заселен?

- а) Гренландия
- б) Новая Зеландия
- в) Мадагаскар
- г) Гаити

12. В какой из перечисленных стран доля городского населения в общей численности населения наибольшая?

- а) Мали
- б) Канада
- в) Нигерия
- г) Сенегал

13. В какой из перечисленных стран показатель младенческой смертности наибольший?

- а) Аргентина
- б) Турция
- в) Саудовская Аравия
- г) Афганистан

14. Какой стране принадлежит указанная в таблице отраслевая структура хозяйства?

Отраслевая структура	Доля ВВП, %
Промышленность	10

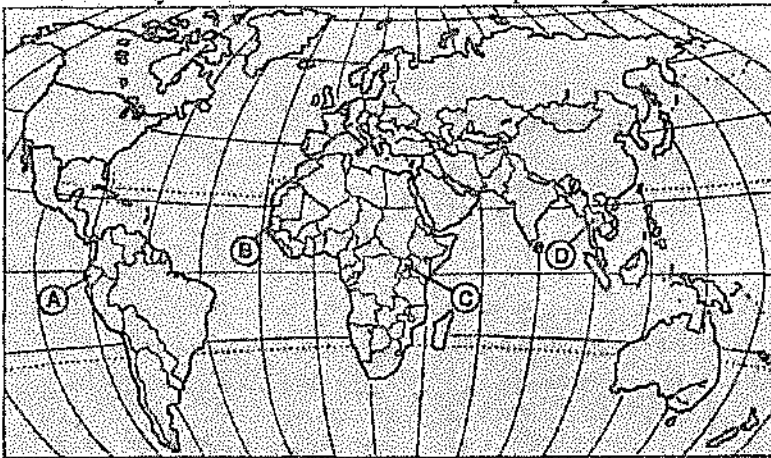
Сельское хозяйство	65
Сфера услуг	25

- а) Франция
- б) Сомали
- в) Бельгия
- г) Италия

15. Какая из перечисленных стран входит в число мировых лидеров по выращиванию сахарной свеклы?

- а) Египет
- б) Бразилия
- в) Украина
- г) Нигерия

16. Какой буквой на политической карте мира обозначено государство Уганда?



- а) А
- б) В
- в) С
- г) D

17. Какая из перечисленных стран по форме правления является монархией?

- а) Греция
- б) Алжир
- в) Ливан
- г) Бельгия

18. Какое утверждение о Финляндии является верным?

- а) По форме правления является монархией.
- б) Обеспечена собственными запасами природного газа и нефти.
- в) Лесная и деревообрабатывающая промышленность – отрасль ее специализации.
- г) В структуре экспорта преобладает минеральное сырье и сельскохозяйственная продукция.

19. На границе с каким из перечисленных государств расположена крайняя западная точка России?

- а) Норвегия
- б) Молдавия
- в) Эстония
- г) Польша

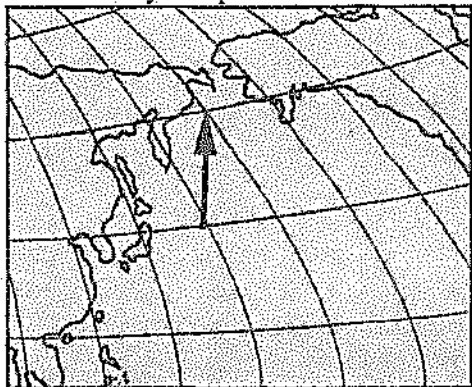
20. В каком из перечисленных регионов России наблюдается естественный прирост населения?
- а) Республика Коми
 - б) Тверская область
 - в) Псковская область
 - г) Республика Ингушетия
21. Какой из перечисленных городов России является наиболее крупным по численности населения?
- а) Астрахань
 - б) Владимир
 - в) Псков
 - г) Омск
22. В каком из перечисленных регионов России расположены наиболее крупные посевы подеолнечника?
- а) Вологодская область
 - б) Волгоградская область
 - в) Пермская область
 - г) Томская область
23. В какой части Восточно-Европейской равнины выпадает наименьшее количество осадков?
- а) северо-восточной
 - б) северо-западной
 - в) юго-восточной
 - г) юго-западной
24. Россия занимает первое место в мире по
- а) производству мяса
 - б) площади пашни
 - в) площади лесов
 - г) выращиванию сахарной свеклы
25. В каком из высказываний содержится информация о процессе воспроизводства населения?
- а) Численность населения – один из важных факторов развития любой страны и всего человечества.
 - б) Решающее воздействие на рождаемость, смертность, естественный прирост оказывают социально-экономические условия жизни людей.
 - в) В среднем в мире к экономически активному населению можно отнести около 49% всего населения.
 - г) В 1990 г. в мире было около 960 млн неграмотных, с тех пор общее число неграмотных сократилось на 100 млн.
26. Большинство верующих какого народа исповедуют ислам?
- а) карелы
 - б) коми
 - в) буряты
 - г) башкиры
27. Какая из перечисленных стран не входит в состав ЕС?
- а) Ирландия
 - б) Исландия
 - в) Греция

г) Швеция

28. Какой вклад в развитие географической науки внес В.И. Вернадский?

- а) изучал геологическое строение и полезные ископаемые России
- б) создал учение о почвах
- в) основал учение о биосфере
- г) изучал климат Земли

29. Какому направлению соответствует направление стрелки на фрагменте карты?



- а) северо-восток
- б) запад
- в) восток
- г) юго-запад

30. Какое утверждение об атмосфере верно?

- а) Озоновый экран защищает Землю от ультрафиолетового излучения.
- б) Высоко в горах атмосферное давление выше, чем на равнинах.
- в) Водяной пар атмосферы сосредоточен в стратосфере.
- г) Температура воздуха в тропосфере с высотой повышается.

31. Примером рационального природопользования является

- а) разработка новых месторождений полезных ископаемых
- б) распашка целинных земель
- в) вторичная переработка сырья
- г) сплав леса по крупным рекам

32. Какое соответствие «почвы – природная зона, для которой они характерны» верно?

- а) подзолистые – саванны и редколесья
- б) каштановые – тайга
- в) красно-желтые ферраллитные – тундра
- г) бурые лесные – широколиственные леса

33. В Северной Америке землетрясения характерны для территорий, расположенной в пределах

- а) полуострова Калифорния
- б) полуострова Лабрадор
- в) Аппалачей
- г) полуострова Флорида

34. Где в Африке наблюдаются наибольшие суточные амплитуды температур?

- а) в бассейне реки Конго
- б) на северо-западном побережье
- в) в пустыне Сахара

г) на юго-восточном побережье

35. Длина окружности Земли по экватору примерно равна

- а) 12 700 км
- б) 26 000 км
- в) 40 000 км
- г) 334 000 км

ЧАСТЬ 2.

Задание: Закончите фразу (слово, сочетание слов или цифра).

1) Увеличение доли городского населения, роста городов и возрастание их роли в мире - это
Ответ:

2) Атмосферный вихрь с пониженным давлением в центре и с преобладанием облачной погоды и осадков - это:

Ответ:

3) Способность поверхностей или отдельных тел отражать солнечную радиацию - это
Ответ:

4) Расположите перечисленные периоды геологической истории Земли в хронологическом порядке, начиная с самого раннего.

- а) девонский
- б) юрский
- в) триасовый

Запишите в таблицу получившуюся последовательность букв.

--	--	--

5) Установите соответствие между республикой в составе Российской Федерации и ее столицей.
РЕСПУБЛИКА СТОЛИЦА

- А) Башкортостан 1) Казань
- Б) Чувашия 2) Абакан
- В) Хакасия 3) Уфа
- 4) Чебоксары

Запишите в таблицу цифры, соответствующие выбранным ответам.

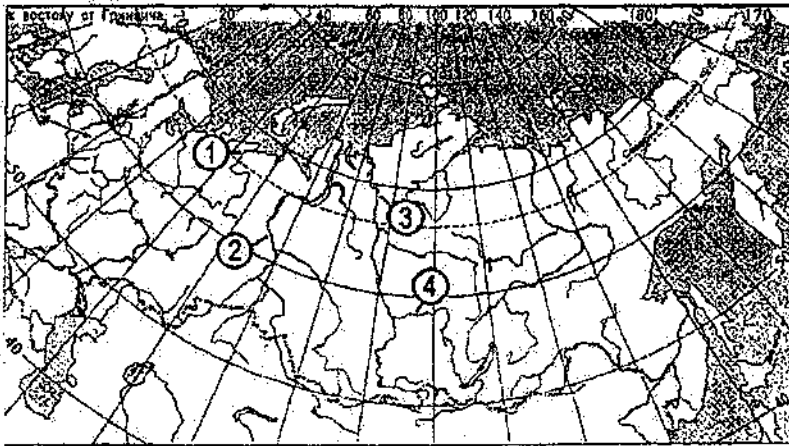
А	Б	В

6) Определите страну по краткому описанию.

Эта страна – одна из крупных в мире по площади территории и по численности населения. Значительную, но наименее освоенную часть ее территории занимает низменность. Особенностью страны является высокий уровень урбанизации. Население размещено крайне неравномерно: 9/10 населения сосредоточено в приокеанской полосе. Страна богата разнообразными природными ресурсами: по запасам железных, марганцевых руд, бокситов занимает одно из первых мест в мире; огромны ее водные, лесные ресурсы.

Ответ:

7) Установите соответствие между рекой и её расположением на карте, обозначенным цифрой.



РЕКА РАСПОЛОЖЕНИЕ НА КАРТЕ

- А) Печора а) 1
 Б) Ангара б) 2
 В) Обь в) 3
 г) 4

Запишите в таблицу цифры, соответствующие выбранным ответам

А	Б	В

8) Какие три из перечисленных центров являются центрами производства цветных металлов? Обведите цифры, под которыми они указаны.

- 1) Норильск
- 2) Новокузнецк
- 3) Орск
- 4) Томск
- 5) Хабаровск
- 6) Чита

Запишите в таблицу соответствующие цифры.

--	--	--

9) Установите соответствие между страной и ее столицей.

- | СТРАНА | СТОЛИЦА |
|-----------|-----------|
| А) Сирия | 1) Луанда |
| Б) Перу | 2) Дамаск |
| В) Ангола | 3) Ла-Пас |
| | 4) Лима |

Запишите в таблицу цифры, соответствующие выбранным ответам

А	Б	В

10) Выберите три страны, в которых экспорт нефти является отраслью международной специализации. Обведите цифры, под которыми они указаны.

- 1) Куба
- 2) Польша
- 3) Россия
- 4) Венесуэла
- 5) Япония

б) Иран

Выбранные цифры запишите в бланк ответов в порядке возрастания.

--	--	--

Председатель экзаменационной комиссии,
к. х. н., доцент



Ю.Ю. Петрова